


**Compétences :** Mesurer la masse d'un objet. Utiliser l'unité usuelle : le gramme.

**Calcul mental :** S'entraîner sur la table de multiplication par 5.

**Protocole :** Parcours A et B p. 95




- 1 Lola utilise ces masses marquées pour peser une pomme. Combien pèse la pomme ?




La pomme pèse .....130..... grammes.

- 2 Noé a pesé ces aliments. Observe les pesées et écris la masse de chaque aliment.



150 g



25 g



175 g

- 3 Ce tableau indique les masses marquées utilisées pour peser les aliments.

Calcule la masse de chacun d'eux et complète le tableau comme dans l'exemple.

	100 g	50 g	20 g	10 g	5 g	Total
un bol de riz	x	x	x			170 g
une tomate		x	x	x		80 g
une banane			x		x	25 g
un pot de confiture	x	x	x	x	x	185 g

Relie ces nombres à leur place sur la droite graduée.

